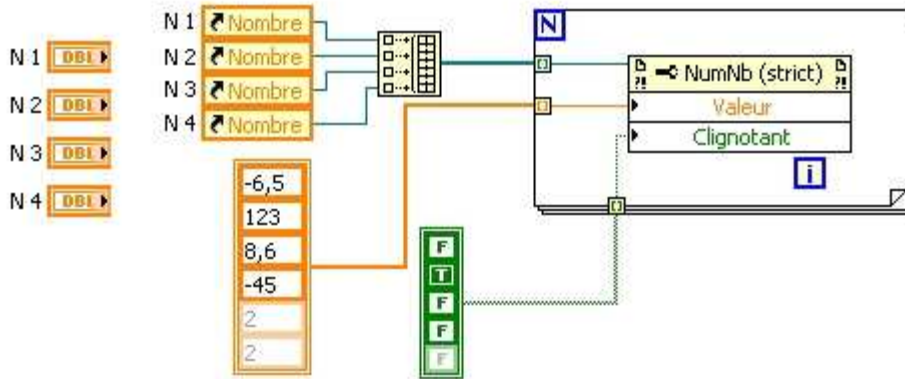


NOM :	Examen Médian IV50	Note :
		/20,5
Durée : 1h. Sans document. PC et Téléphone portable interdits.		

3) 1) Expliquez ce que réalise le programme suivant :



1,5) 2) Dans le programme suivant donnez le type de donnée et la valeur de l'indicateur après exécution du programme.

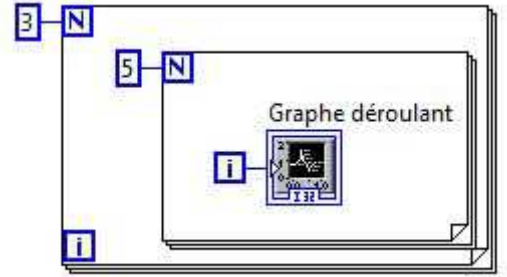


Type de donnée :

Valeur :

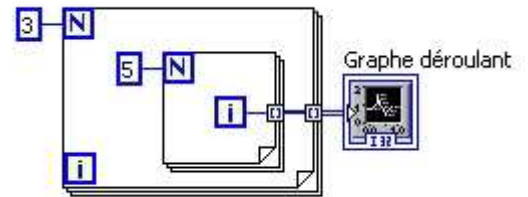
2 3) Considérons le diagramme suivant :

Que verra-t-on sur le graphe déroulant après exécution du programme?



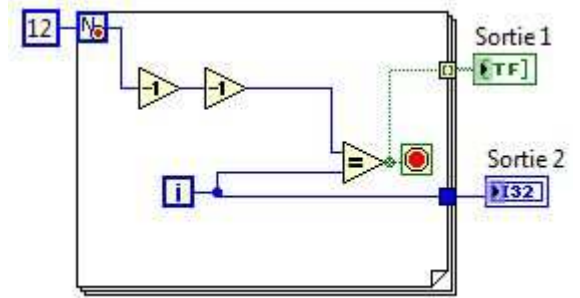
2 4) Considérons le diagramme suivant :

Que verra-t-on sur le graphe déroulant après exécution du programme?



2 5) Quels types de données peut-on utiliser comme sélecteur de condition dans une structure condition?

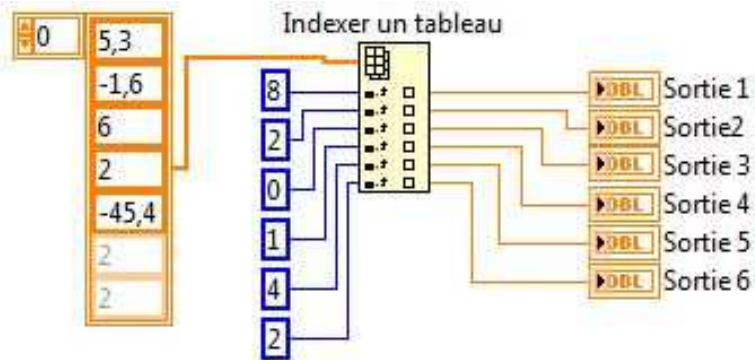
- 1,5 6) Dans le programme suivant donnez la valeur des sorties 1, et 2 après exécution du programme.



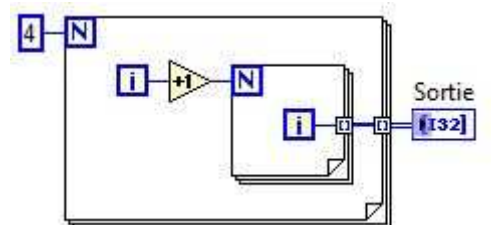
Sortie 1 :

Sortie 2 :

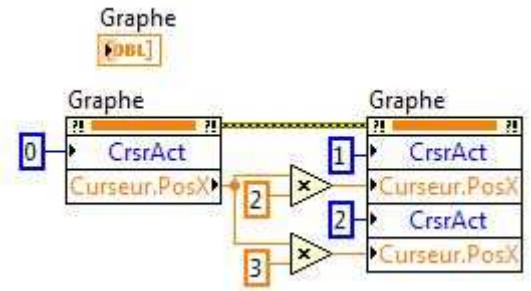
- 1,5 7) Dans le programme suivant donnez la valeur des sorties 1 à 6 après exécution du programme



- 2 8) Dans le programme suivant donnez la valeur de la sortie après exécution du programme



- 2 9) Que réalisent les nœuds de propriétés suivants:



- 3 10) Dans le programme suivant donnez la valeur des sorties 1 à 3 après exécution du programme

